

Уважаемые студенты!

- Изучите теоретический материал;
- Написать краткий конспект;
- По вопросам обращаться 072-1098278 или hvastov@rambler.ru
- Фотоотчёт конспекта прислать в течение 3 дней со дня получения задания на hvastov@rambler.ru

План

1. Простейшие показательные уравнения и неравенства
2. Простейшие логарифмические уравнения и неравенства
3. Метод замены в показательных и логарифмических уравнениях и неравенствах
4. Показательные уравнения повышенной сложности
5. Логарифмические уравнения и неравенства повышенной сложности

Простейшие показательные уравнения и неравенства

Мы рассмотрели степенные уравнения – уравнения, у которых неизвестная стояла в основании степени. Теперь рассмотрим уравнения, в которых неизвестная стоит в показателе степени – показательные уравнения. Идея их решения очень похожа на ту, что мы использовали при решении степенных уравнений. Нужно свести уравнение к виду:

$$a^f = a^g$$

Т. е. так, чтобы слева и справа были степени с одинаковым основанием.

Из того, что $a^f = a^g$ следует, что $f = g$. Это следует из монотонности графика показательной функции: каждому значению функции соответствует ровно одно значение аргумента (см. рис. 1). Если значения функций равны, то равны и их аргументы.

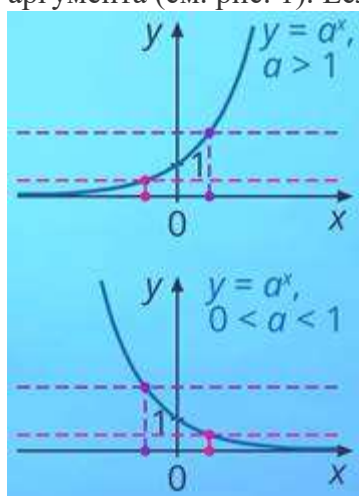


Рис. 1. Графики функций $y = a^x$ при $a > 1$ и $0 < a < 1$

Задание. Решить уравнение:

$$2^{1-x} = 16$$

Решение.

Слева – основание 2 , сделаем справа такое же:

$$16 = 2^4$$

Тогда:

$$2^{1-x} = 2^4$$

Из этого следует, что:

$$1 - x = 4$$

Получили линейное уравнение:

$$x = -3$$

Ответ: -3 .

Задание. Решить уравнение:

$$9^{4x-2} = \frac{1}{27}$$

Решение.

Здесь видим в основании 9 и $\frac{1}{27}$. Это все целые степени тройки, поэтому удобно левую и правую части привести к основанию 3 . Применяя свойства степени, получаем:

$$9^{4x-2} = (3^2)^{4x-2} = 3^{2 \cdot (4x-2)} = 3^{8x-4}$$

$$\frac{1}{27} = \frac{1}{3^3} = 3^{-3}$$

Получаем уравнение:

$$3^{8x-4} = 3^{-3}$$

Основание равны, значит, равны и степени:

$$8x - 4 = -3$$

Решая это линейное уравнение, получаем ответ:

$$x = \frac{1}{8}$$

Ответ: $\frac{1}{8}$.

Идея решения показательных неравенств очень похожа. Нужно привести неравенство к виду $a^f > a^g$; между частями может быть любой другой знак, все выводы будут аналогичными. Затем возможны два варианта.

Первый вариант – основание $a > 1$. Тогда соответствующая показательная функция будет возрастающей (см. рис. 2). Значит, большему значению функции соответствует больший аргумент. И из $a^f > a^g$ будет следовать, что $f > g$. Знак неравенства не поменялся.

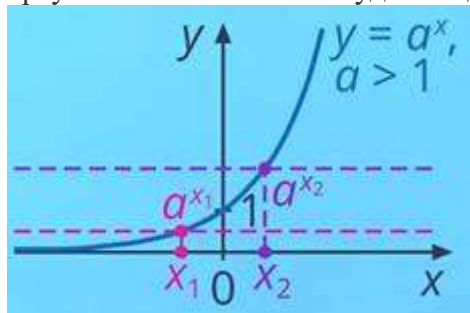


Рис. 2. График функции $y = a^x$ при $a > 1$

Второй вариант – основание $0 < a < 1$. Тогда соответствующая функция будет убывающей (см. рис. 3). Большему значению функции соответствует меньший аргумент. Значит, из $a^f > a^g$ следует, что $f < g$. Знак неравенства изменился на противоположный.

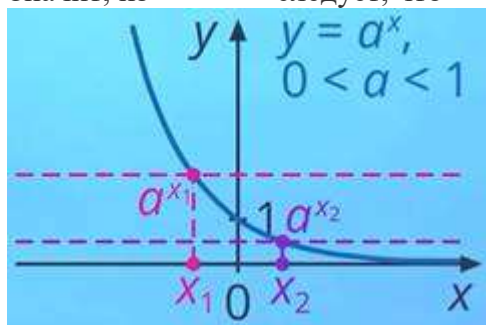


Рис. 3. График функции $y = a^x$ при $0 < a < 1$

В обоих случаях получаем неравенство, обычно линейное или квадратное, которое решаем стандартными методами. Если вы не помните методы решения неравенств, можете их повторить, посмотрев уроки [Линейные неравенства](#). [Системы и совокупности неравенств](#); [Решение квадратных неравенств](#). [Метод интервалов](#).

Задание. Решить неравенство:

$$5^{x-1} \geq 1$$

Решение.

Приводим левую и правую часть к одинаковым основаниям. Слева – основание 5 . Справа из 1 можно сделать степень с любым основанием: $a^0 = 1, a \neq 0$. Нужно 5 – делаем 5 :

$$1 = 5^0$$

Получаем:

$$5^{x-1} \geq 5^0$$

Основания одинаковы и больше 1 . Значит, для показателей степени знак неравенства не поменяется:

$$x - 1 \geq 0$$

Решая неравенство, получаем:

$$[1; \infty)$$

Ответ: $[1; \infty)$.

Задание. Решить неравенство:

$$\left(\frac{\pi}{4}\right)^{2-x} > \left(\frac{4}{\pi}\right)^{-x^2}$$

Решение.

Неравенство выглядит громоздко, но оно не сложнее предыдущего. Действуем по алгоритму. Смотрим на основания степеней – это взаимнообратные дроби. Чтобы сделать основания одинаковыми, запишем:

$$\frac{4}{\pi} = \left(\frac{\pi}{4}\right)^{-1}$$

Тогда:

$$\left(\frac{4}{\pi}\right)^{-x^2} = \left(\left(\frac{\pi}{4}\right)^{-1}\right)^{-x^2} = \left(\frac{\pi}{4}\right)^{x^2}$$

Получаем неравенство:

$$\left(\frac{\pi}{4}\right)^{2-x} > \left(\frac{\pi}{4}\right)^{x^2}$$

Основание уже одинаковые. Они больше или меньше 1 ? $\pi \approx 3,14$, значит, $\frac{\pi}{4}$ будет меньше 1 . Поэтому записываем неравенство для показателей степени и меняем знак:
 $2 - x < x^2$

Получили квадратное неравенство. Решая его, получаем ответ:

$$x \in (-\infty; -2) \cup (1; +\infty)$$

Ответ: $(-\infty; -2) \cup (1; +\infty)$.

Теперь рассмотрим несколько задач, где не так очевидно, как можно привести обе части к одинаковому основанию.

Задание. Решить неравенство:

$$2^x > 5$$

Решение.

Чтобы представить число 5 в виде степени с основанием 2 , воспользуемся основным логарифмическим тождеством. Вспомним: $a = b^{\log_b a}$ для любых положительных a и b .

Тогда:

$$5 = 2^{\log_2 5}$$

Получаем неравенство:

$$2^x > 2^{\log_2 5}$$

Основания равны и больше 1 . Значит:

$$x > \log_2 5$$

Получаем ответ:

$$x \in (\log_2 5; +\infty)$$

Ответ: $(\log_2 5; +\infty)$.

Задание. Решить уравнение:

$$2^{x+2} - 2^x = 6$$

Решение.

Здесь в левой части стоит разность степенных выражений. Прежде чем решать по алгоритму, упростим левую часть, разложив ее на множители:

$$2^{x+2} - 2^x = 2^x(2^2 - 1) = 2^x \cdot 3$$

Получим уравнение:

$$2^x \cdot 3 = 6$$

Разделив обе части уравнения на 3 , получим:

$$2^x = 2$$

$$2 = 2^1, \text{ т. е. :}$$

$$x = 1$$

Ответ: 1 .

С решением еще одного показательного уравнения вы можете ознакомиться ниже.

Пример решения показательного уравнения

Задание. Решить уравнение:

$$4^x = 0,4 \cdot 5^{2x}$$

Решение.

Здесь мы видим разные основания: 4 и 5 , которые сложно будет свести к одному. Можно попробовать это сделать с помощью основного логарифмического тождества, но это долгий путь. Если не получается привести к одинаковым основаниям, то можно попробовать привести к одинаковым показателям степени – в этом случае тоже можно воспользоваться свойствами степени для упрощения выражений. Поступим следующим образом.

Для начала отметим, что $4 = 2^2$, следовательно:

$$4^x = (2^2)^x = 2^{2x}$$

Теперь можем разделить обе части уравнения на 5^{2x} и применить свойство степеней, поскольку степени 2 и 5 теперь одинаковые:

$$2^{2x} = 0,4 \cdot 5^{2x}$$

$$\frac{2^{2x}}{5^{2x}} = 0,4$$

$$\left(\frac{2}{5}\right)^{2x} = 0,4$$

Теперь представим $0,4$ в виде степени с основанием $\frac{2}{5}$:

$$0,4 = \frac{4}{10} = \frac{2}{5} = \left(\frac{2}{5}\right)^1$$

В итоге:

$$\left(\frac{2}{5}\right)^{2x} = \left(\frac{2}{5}\right)^1$$

$$2x = 1$$

$$x = 0,5$$

Ответ: $0,5$.

Простейшие логарифмические уравнения и неравенства

Рассмотрим теперь решение логарифмических уравнений. Общая идея решения нам уже знакома – привести левую и правую части к логарифмам с одинаковым основанием:

$$\log_a f = \log_a g$$

Как и показательная, логарифмическая функция также имеет лишь один аргумент для каждого значения функции (см. рис. 4).

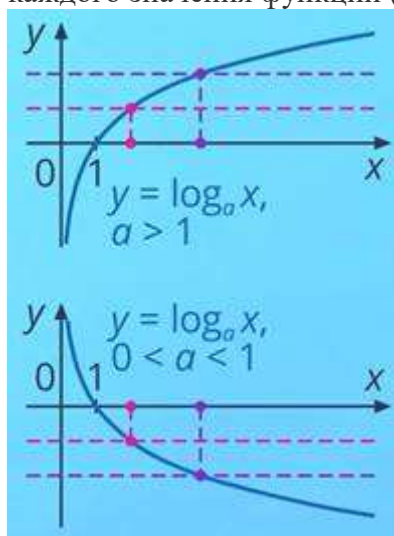


Рис. 4. Графики функций $y = \log_a x$ при $a > 1$ и $0 < a < 1$

Из равенства логарифмов будет следовать равенство подлогарифмических выражений:

$$\log_a f = \log_a g \Leftrightarrow f = g$$

Итак, наша задача: привести левую и правую части уравнения к логарифмам с одинаковым основанием, используя различные свойства логарифмов. Все так же, как и в показательных уравнениях. Единственное, что нужно учесть ОДЗ: подлогарифмическое выражение всегда больше 0 (ОДЗ: $f > 0$; $g > 0$).

Задание. Решить уравнение:

$$\log_2 x^2 = \log_2(2x + 3)$$

Решение.

Для начала выпишем ОДЗ: $x^2 > 0$; $2x + 3 > 0$. Переходим к решению. Основания логарифмов равны, можем приравнять выражения под логарифмами:

$$x^2 = 2x + 3$$

Корни данного квадратного уравнения:

$$x_1 = 3; x_2 = -1$$

Выполним проверку:

$$x_1 = 3:$$

$$3^2 = 9 > 0$$

$$2 \cdot 3 + 3 = 9 > 0$$

Неравенства верны.

$$x_2 = -1:$$

$$(-1)^2 = 1 > 0$$

$$2 \cdot (-1) + 3 = 1 > 0$$

Неравенства верны.

Оба корня входят в ОДЗ.

Ответ: $-1; 3$.

Задание. Решить уравнение:

$$\log_4(x + 0,75) = -1$$

Решение.

ОДЗ:

$$x + 0,75 > 0$$

Чтобы привести левую часть к логарифму с основанием 4 , воспользуемся одним из свойств логарифма: $n = \log_a a^n$ для любого значения n .

Таким образом:

$$-1 = \log_4 4^{-1}$$

Получаем уравнение:

$$\log_4(x + 0,75) = \log_4 4^{-1}$$

Основания логарифмов равны, значит:

$$x + 0,75 = 4^{-1}$$

Решая уравнение, получаем $x = -0,5$. Корень входит в ОДЗ:

$$-0,5 + 0,75 = 0,25 > 0$$

Ответ: $-0,5$.

Это же уравнение можно было решить и с помощью определения логарифма. Подробнее об этом – ниже.

Еще один способ решения уравнения

Посмотрим на уравнение $\log_4(x + 0,75) = -1$. По определению, логарифм – это степень, в которую нужно возвести основание логарифма, чтобы получить то, что под логарифмом.

Т. е., 4 нужно возвести в -1 степень, чтобы получить $x + 0,75$:

$$4^{-1} = x + 0,75$$

Мы получили такое же уравнение, корнем которого также будет $x = -0,5$. Это вполне естественно – решая разными способами, мы получили такой же ответ. Возможно, кому-то этот способ покажется более простым. Что ж, можете его использовать. Но обратите внимание, что он не такой универсальный. Он подойдет только в случае, если в одной из частей уравнения стоит число.

Задание. Решить уравнение:

$$\log_2(x+2) + \log_2(x-1) = \log_2(x+5) + 1$$

Решение.

Записываем ОДЗ:

$$x + 2 > 0$$

$$x - 1 > 0$$

$$x + 5 > 0$$

Теперь нужно привести обе части уравнения к одинаковому основанию. По слагаемым понятно, что это будет основание 2 . По свойству логарифмов:

$$\log_2(x+2) + \log_2(x-1) = \log_2((x+2)(x-1))$$

$$\log_2(x+5) + 1 = \log_2(x+5) + \log_2 2 = \log_2(2(x+5))$$

Получаем уравнение:

$$\log_2((x+2)(x-1)) = \log_2(2(x+5))$$

Основание логарифмов равны, значит, можем записать:

$$(x+2)(x-1) = 2(x+5)$$

Получили квадратное уравнение. Попробуйте решить его самостоятельно. Его корни:

$$x_1 = 4; x_2 = -3$$

Проверяем ОДЗ:

$$x_1 = 4.$$

$$4 + 2 = 6 > 0$$

$$4 - 1 = 3 > 0$$

$$4 + 5 = 9 > 0$$

Неравенства верны.

$$x_2 = -3.$$

$$-3 + 2 = -1 > 0$$

$$-3 - 1 = -4 > 0$$

$$-3 + 5 = 2 > 0$$

Первое и второе неравенства неверны.

Получаем ответ:

$$x = 4$$

Ответ: 4 .

С решением еще одного логарифмического уравнения вы можете ознакомиться в ответвлении.

Пример решения логарифмического уравнения

Задание. Решить уравнение:

$$\lg x = \log_{100} x^4$$

Решение.

Сразу записываем ОДЗ:

$$x > 0; x^4 > 0$$

Вспомним, что:

$$\lg b = \log_{10} b$$

Чтобы удобнее было приводить к одинаковому основанию, так и запишем:

$$\log_{10} x = \log_{100} x^4$$

Слева и справа основания разные. Что делать? Вспомним свойство логарифма для положительных a и b :

$$\log_a^k b = \frac{1}{k} \log_a b; a, b > 0, a \neq 1$$

Поскольку $100 = 10^2$, то:

$$\log_{10^2} x^4 = \frac{1}{2} \log_{10} x^4$$

Теперь внесем коэффициент перед логарифмом, используя свойство:

$$m \log_a b = \log_a b^m; a, b > 0, a \neq 1$$

$$\frac{1}{2} \log_{10} x^4 = \log_{10} (x^4)^{\frac{1}{2}}$$

Получили уравнение:

$$\log_{10} x = \log_{10} (x^4)^{\frac{1}{2}}$$

Основания равны, значит:

$$x = (x^4)^{\frac{1}{2}}$$

По свойству степени:

$$(x^4)^{\frac{1}{2}} = x^{4 \cdot \frac{1}{2}} = x^2$$

Получили квадратное уравнение:

$$x = x^2$$

Его корни: $x_1 = 0$, $x_2 = 1$.

Проверяем:

$$x_1 = 0:$$

$$0 > 0$$

$$0^4 = 0 > 0$$

Неравенства неверны.

$$x_2 = 1:$$

$$1 > 0$$

$$1^4 = 1 > 0$$

Неравенства верны.

Получаем ответ:

$$x = 1$$

Ответ: **1**.

Наконец, рассмотрим простейшие логарифмические неравенства. Идея та же: привести к одинаковому основанию. Далее, как и в показательных неравенствах, смотрим на основание.

Если $a > 1$, то записываем неравенство уже без логарифмов и знак не меняем:

$$\log_a f > \log_a g \Leftrightarrow f > g$$

Если $0 < a < 1$, то знак меняем на противоположный:

$$\log_a f > \log_a g \Leftrightarrow f < g$$

Также не забываем учесть ОДЗ: $f > 0; g > 0$.

Задание. Решить неравенство:

$$\log_2(x+3) < 0$$

Решение.

ОДЗ:

$$x+3 > 0$$

Левую часть неравенства нужно представить, как логарифм с основанием **2**. По свойству логарифмов:

$$0 = \log_2 2^0 = \log_2 1$$

Тогда:

$$\log_2(x+3) < \log_2 1$$

Основания логарифмов одинаковые и больше 1. Можем записать неравенство для подлогарифмических выражений, не меняя знак:

$$x + 3 < 1$$

С учетом ОДЗ получаем систему неравенств:

$$\begin{cases} x + 3 > 0 \\ x + 3 < 1 \end{cases}$$

Получаем ответ:

$$x \in (-3; -2)$$

Ответ: $(-3; -2)$.

Метод замены в показательных и логарифмических уравнениях и неравенствах

Мы разобрали простейшие показательные и логарифмические уравнения и неравенства. В них мы всегда могли свести левую и правую части к одинаковым основаниям. Сейчас мы разберем несколько задач, которые можно свести к этим самым простейшим уравнениям и неравенствам.

Метод, который нам понадобится, мы уже использовали при решении рациональных и тригонометрических уравнений – это метод замены. Нужно увидеть одинаковые блоки выражений в условии и заменить их новой переменной ([Практика. Решение квадратных и дробно-рациональных уравнений. Практика. Тригонометрические уравнения и неравенства. Базовый уровень](#)).

Задание. Решить уравнение:

$$2 \log_9^2 x - \log_9 x = 1$$

Решение.

Укажем ОДЗ:

$$x > 0$$

Обратите внимание, что в первом слагаемом логарифм в квадрате. Поэтому использовать свойства логарифмов с одинаковым основанием не получится. Но у нас есть повторяющийся элемент: $\log_9 x$. Введем замену:

$$\log_9 x = t$$

Тогда:

$$\log_9^2 x = t^2$$

Получаем уравнение:

$$2t^2 - t = 1$$

Получили квадратное уравнение. Его корни:

$$\begin{cases} t_1 = 1 \\ t_2 = -\frac{1}{2} \end{cases}$$

Не забываем выполнить обратную замену:

$$\begin{cases} \log_9 x = 1 \\ \log_9 x = -\frac{1}{2} \end{cases}$$

Теперь у нас два простейших уравнения. Итак, в первом уравнении:

$$\log_9 x = \log_9 9$$

$$x = 9$$

Во втором:

$$\log_9 x = \log_9 9^{-\frac{1}{2}}$$

$$x = 9^{-\frac{1}{2}}$$

Значение $9^{-\frac{1}{2}}$ можно вычислить:

$$9^{-\frac{1}{2}} = \frac{1}{9^{\frac{1}{2}}} = \frac{1}{\sqrt{9}} = \frac{1}{3}$$

Оба корня входят в ОДЗ.

Ответ: $\frac{1}{3}; 9$.

В некоторых уравнениях замена не сразу очевидна. Сначала нужно преобразовать уравнение, чтобы ее увидеть.

Задание 15. Решить уравнение:

$$9^x + 3^{x+1} - 4 = 0$$

Решение.

Тут у нас два слагаемых с неизвестными. Давайте сначала приведем их к одинаковому основанию:

$$9 = 3^2$$

Значит:

$$9^x = (3^2)^x = 3^{2x}$$

$$3^{2x} + 3^{x+1} - 4 = 0$$

Чтобы увидеть замену, воспользуемся свойствами степени:

$$3^{2x} = (3^x)^2$$

$$3^{x+1} = 3^x \cdot 3$$

Теперь видно, какую замену нужно сделать:

$$3^x = t$$

Тогда:

$$3^{2x} = t^2$$

$$3^{x+1} = 3t$$

Получаем квадратное уравнение:

$$t^2 + 3t - 4 = 0$$

Решая его, получаем:

$$\begin{cases} t = -4 \\ t = 1 \end{cases}$$

Делаем обратную замену:

$$\begin{cases} 3^x = -4 \\ 3^x = 1 \end{cases}$$

В первом уравнении:

$$3^x = 3^0$$

$$x = 0$$

Второе уравнение не имеет решений, поскольку показательные выражения могут быть только положительными.

Ответ: 0 .

Еще раз обратим внимание, как мы преобразовали выражение 9^x :

$$9^x = (3^2)^x = 3^{2x} = (3^x)^2$$

Такой прием достаточно распространен в показательных уравнениях, поэтому можете запомнить его.

С помощью замены можно решать и неравенства.

Задание. Решить неравенство:

$$4^x + 4^{-x+1} > 5$$

Решение.

Чтобы увидеть замену, преобразуем 4^{-x+1} , используя свойства степеней:

$$4^{-x+1} = 4^{-x} \cdot 4 = \frac{1}{4^x} \cdot 4 = \frac{4}{4^x}$$

Теперь видно замену:

$$4^x = t$$

Тогда:

$$4^{-x+1} = \frac{4}{t}$$

Получаем неравенство:

$$t + \frac{4}{t} > 5$$

Получили дробно-рациональное неравенство. Вы уже знаете, как решать такие неравенства. Попробуйте решить его самостоятельно, свериться можно ниже.

Решение дробно-рационального неравенства

Задание. Решить неравенство:

$$t + \frac{4}{t} > 5$$

Решение.

Решим неравенство методом интервалов. Для этого перенесем все слагаемые в одну сторону:

$$t + \frac{4}{t} - 5 > 0$$

И решим соответствующее уравнение:

$$t + \frac{4}{t} - 5 = 0$$

ОДЗ:

$$t \neq 0$$

Умножаем обе части равенства на t :

$$t^2 - 5t + 4 = 0$$

По теореме Виета корни уравнения:

$$\begin{cases} t_1 = 1 \\ t_2 = 4 \end{cases}$$

Расставляем особые точки ОДЗ и корни на оси (см. рис. 1).

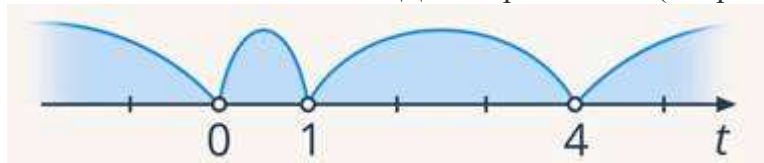


Рис. 1. Иллюстрация к заданию

Методом пробной точки определяем знаки на интервалах (см. рис. 2):

$$t = 5:$$

$$5 + \frac{4}{5} - 5 = \frac{4}{5}$$

Знак «+».

$$t = 3:$$

$$3 + \frac{4}{3} - 5 = -\frac{2}{3}$$

Знак « - ».

$$t = 0,5$$

$$0,5 + \frac{4}{0,5} - 5 = 3,5$$

Знак « + ».

$$t = -1$$

$$-1 + \frac{4}{-1} - 5 = -10$$

Знак « - ».

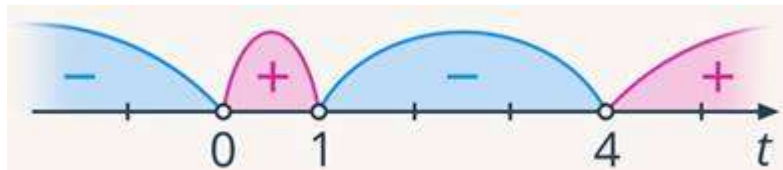


Рис. 2. Иллюстрация к заданию

Выбираем интервалы со знаком « + »:

$$0 < t < 1; t > 4$$

Ответ: $(0; 1) \cup (4; +\infty)$.

Решив неравенство, получаем:

$$\begin{cases} 0 < t < 1 \\ t > 4 \end{cases}$$

Делаем обратную замену:

$$\begin{cases} 0 < 4^x < 1 \\ 4^x > 4 \end{cases}$$

Решим каждое по отдельности:

$4^x > 0$ выполняется автоматически (вспомните почему). Тогда первое неравенство превращается в $4^x < 1$. Решаем его:

$$4^x < 4^0$$

$$x < 0$$

Второе неравенство:

$$4^x > 4$$

$$4^x > 4^1$$

$$x > 1$$

Получаем:

$$\begin{cases} x < 0 \\ x > 1 \end{cases}$$

Ответ: $(-\infty; 0) \cup (1; \infty)$.

Показательные уравнения повышенной сложности

Давайте рассмотрим более сложные примеры показательных уравнений.

Задание. Решить уравнение:

$$\left(\frac{3}{7}\right)^{\sin 2x} + \left(\frac{7}{3}\right)^{\sin 2x} = 2$$

Решение.

Мы видим похожее выражение, но основания их – обратные дроби. Значит, можем записать:

$$\frac{7}{3} = \left(\frac{3}{7}\right)^{-1}$$

Тогда можем применить прием, о котором мы говорили ранее:

$$\left(\frac{7}{3}\right)^{\sin 2x} = \left(\left(\frac{3}{7}\right)^{-1}\right)^{\sin 2x} = \left(\frac{3}{7}\right)^{-1 \sin 2x} = \left(\left(\frac{3}{7}\right)^{\sin 2x}\right)^{-1}$$

Можем сделать замену:

$$\left(\frac{3}{7}\right)^{\sin 2x} = t$$

Тогда:

$$\left(\frac{7}{3}\right)^{\sin 2x} = t^{-1}$$

Получаем уравнение:

$$t + t^{-1} = 2$$

$$t + \frac{1}{t} = 2$$

ОДЗ:

$$t \neq 0$$

Умножаем обе части на t :

$$t^2 + 1 = 2t$$

Решая это уравнение, получаем единственный корень $t = 1$. Делаем обратную замену:

$$\left(\frac{3}{7}\right)^{\sin 2x} = 1$$

Хоть у нас в показателе и стоит синус, принцип неизменный: приводим обе части уравнения к одному основанию:

$$\left(\frac{3}{7}\right)^{\sin 2x} = \left(\frac{3}{7}\right)^0$$

Основания равны, следовательно $\sin 2x = 0$. Как видите, вся сложность состоит лишь в том, что в итоге мы получили не линейное или квадратное уравнение, а тригонометрическое. Но и их мы уже умеем решать:

$$\sin 2x = 0$$

$$2x = \pi k, k \in Z$$

$$x = \frac{\pi k}{2}, k \in Z$$

$$\text{Ответ: } \frac{\pi k}{2}, k \in Z.$$

Есть еще один тип показательных уравнений, которые решаются заменой. Это однородные уравнения. С подобным типом мы уже сталкивались ранее, например, в тригонометрии. Показательные однородные уравнения похожи на них: у них также должна быть одинаковая степень у всех слагаемых, а в правой части – стоять ноль.

Задание. Решить уравнение:

$$9^x + 7 \cdot 6^x - 8 \cdot 4^x = 0$$

Решение.

Для начала, как и во всех показательных уравнениях, попробуем привести степени к одинаковым основаниям, разложив имеющиеся основания на простые множители:

$$9^x = 3^{2x}$$

$$6^x = 3^x \cdot 2^x$$

$$4^x = 2^{2x}$$

Получаем:

$$3^{2x} + 7 \cdot 3^x \cdot 2^x - 8 \cdot 2^{2x} = 0$$

Видим, что это однородное уравнение: у слагаемых степени одинаковы: $2x$, справа в уравнении стоит 0 . Идея решения похожа у всех однородных уравнений: делим на 2^{2x} . Это выражение не равно нулю, имеем право делить. Получим:

$$\frac{3^{2x}}{2^{2x}} + \frac{7 \cdot 3^x \cdot 2^x}{2^{2x}} - 8 = 0$$

Или, применив свойства степеней:

$$\left(\frac{3}{2}\right)^{2x} + 7 \cdot \left(\frac{3}{2}\right)^x - 8 = 0$$

Теперь уже можем сделать замену:

$$\left(\frac{3}{2}\right)^x = t$$

Тогда:

$$\left(\frac{3}{2}\right)^{2x} = t^2$$

Получаем квадратное уравнение:

$$t^2 + 7t - 8 = 0$$

Его корни:

$$\begin{cases} t = -8 \\ t = 1 \end{cases}$$

Делаем обратную замену:

$$\begin{cases} \left(\frac{3}{2}\right)^x = -8 \\ \left(\frac{3}{2}\right)^x = 1 \end{cases}$$

Первое уравнение не имеет решений, второе уравнение имеет корень $x = 0$.

Ответ: 0 .

Логарифмические уравнения и неравенства повышенной сложности

Последнее, на что мы обратим наше внимание на сегодняшнем уроке, это более сложные логарифмические уравнения и неравенства.

Задание. Решить уравнение:

$$\log_{x-2} 81 = 2$$

Решение.

Вся сложность заключается лишь в том, что неизвестная стоит в основании логарифма, с этим мы еще не сталкивались. Но ничего страшного, действуем по обычному алгоритму.

Первое – указываем ОДЗ. Основание логарифма больше нуля и не равно 1 . Т. е. ОДЗ:

$x - 2 > 0$; $x - 2 \neq 1$. Приводим левую и правую части к одинаковому основанию. По

свойству логарифма:

$$2 = \log_{x-2}(x-2)^2$$

Получаем:

$$\log_{x-2} 81 = \log_{x-2}(x-2)^2$$

Основания равны, значит:

$$81 = (x-2)^2$$

Получили квадратное уравнение, корни которого $x = 11$ и $x = -7$. Второй корень не входит в ОДЗ. Получаем ответ: $x = 11$.

Ответ: **11**.

В неравенстве также может встретиться переменная в основании логарифма. Алгоритм решения при этом никак не изменится, но будет одно отличие – мы не будем знать, основание больше или меньше 1. А это, напомним, влияет на смену знака неравенства. Поэтому нужно будет рассмотреть два случая: когда основание больше и когда меньше 1. С примером решения подобного неравенства вы можете ознакомиться в ответвлении.

Неравенство с неизвестной в основании логарифма

Задание. Решить неравенство:

$$\log_x(3x - 1) > 1$$

Решение.

Для начал выпишем ОДЗ. Под логарифмом – положительная величина:

$$3x - 1 > 0$$

В основании логарифма – положительная величина не равная единице:

$$x > 0; x \neq 1$$

Переходим к решению. Представим левую часть неравенства в виде логарифма с основанием x :

$$1 = \log_x x$$

Получим:

$$\log_x(3x - 1) > \log_x x$$

Основание одинаковы. Но мы не знаем, больше они 1 или меньше. Рассматриваем 2 случая:

1. при $x > 1$ знак неравенства не изменится:

$$3x - 1 > x$$

Решая неравенство, получим:

$$x > \frac{1}{2}$$

Но в рассматриваемом случае $x > 1$, следовательно, останутся только значения $x > 1$ (см. рис. 1).




Рис. 1. Иллюстрация к заданию

2. при $x < 1$ знак неравенства изменится противоположный:

$$3x - 1 < x$$

Решая неравенство, получим:

$$x < \frac{1}{2}$$

Это соответствует нашему случаю, значит, все решения подойдут (см. рис. 2).

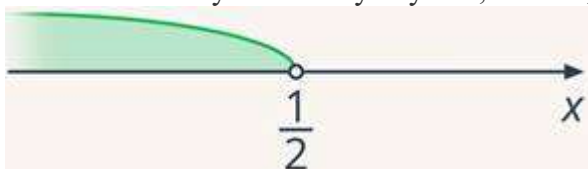


Рис. 2. Иллюстрация к заданию

В итоге получаем (см. рис. 3):

$$\begin{cases} x > 1 \\ x < \frac{1}{2} \end{cases}$$

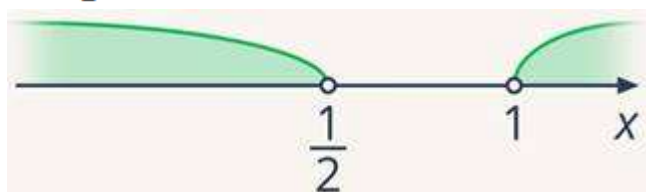


Рис. 3. Иллюстрация к заданию

Осталось учесть ОДЗ: $x > \frac{1}{3}; x > 0; x \neq 1$. Изобразим эти условия на оси и найдем пересечение ОДЗ с областью полученных решений (см. рис. 4).

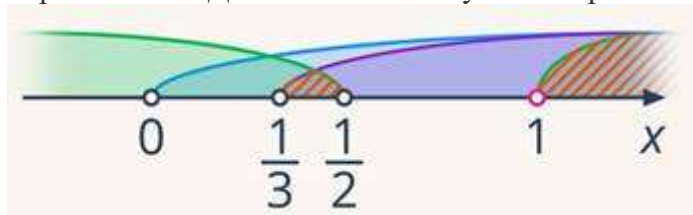


Рис. 4. Иллюстрация к заданию

Получаем ответ: $\left(\frac{1}{3}; \frac{1}{2}\right) \cup (1; \infty)$.

В конце урока разберем еще одно логарифмическое неравенство. Алгоритм его решения абсолютно такой же, как и в более простом примере, разобранным ранее: указываем ОДЗ, приводим к одному основанию и решаем полученную систему неравенств. Сложность данного примера будет заключаться лишь в количестве полученных неравенств в системе. Поэтому мы посмотрим, как их количество можно уменьшить и упростить решение.

Задание. Решить неравенство:

$$\log_{0,5}(x^2 + 2x - 13) \leq \log_{0,5}(x + 3) + \log_{0,5}(1 - x)$$

Решение.

ОДЗ:

$$x^2 + 2x - 13 > 0$$

$$x + 3 > 0$$

$$1 - x > 0$$

Приведем обе части к одному основанию. По свойству логарифмов:

$$\log_{0,5}(x + 3) + \log_{0,5}(1 - x) = \log_{0,5}((x + 3)(1 - x))$$

Получаем неравенство:

$$\log_{0,5}(x^2 + 2x - 13) \leq \log_{0,5}((x + 3)(1 - x))$$

Основание логарифмов равны и меньше 1 . Записываем неравенство для подлогарифмических выражений и меняем знак неравенства:

$$x^2 + 2x - 13 \geq (x + 3)(1 - x)$$

С учетом ОДЗ получаем систему неравенств:

$$\begin{cases} x^2 + 2x - 13 \geq (x + 3)(1 - x) \\ x^2 + 2x - 13 > 0 \\ x + 3 > 0 \\ 1 - x > 0 \end{cases}$$

Осталось решить эту систему. Можно решать каждое по отдельности. А можно и облегчить себе задачу: $x + 3 > 0$, $1 - x > 0$, значит, их произведение также

положительное. А из первого неравенства мы знаем, что $x^2 + 2x - 13$ больше либо равно этому произведению. Значит, оно тоже точно положительно. Получается, второе неравенство автоматически выполняется, если верны 1, 3 и 4 неравенства. Значит, можем его не рассматривать. Остается система из трех неравенств:

$$\begin{cases} x^2 + 2x - 13 \geq (x + 3)(1 - x) \\ x + 3 > 0 \\ 1 - x > 0 \end{cases}$$

Их уже придется решать. Попробуйте сделать это самостоятельно, проверить себя можно ниже.

Решение системы неравенств

Задание. Решить систему неравенств:

$$\begin{cases} x^2 + 2x - 13 \geq (x + 3)(1 - x) \\ x + 3 > 0 \\ 1 - x > 0 \end{cases}$$

Решение.

Решим первое неравенство:

$$x^2 + 2x - 13 \geq (x + 3)(1 - x)$$

Раскроем скобки и перенесем все слагаемые в левую сторону

$$x^2 + 2x - 13 \geq -x^2 - 2x + 3$$

$$2x^2 + 4x - 16 \geq 0$$

Разделим на 2 :

$$x^2 + 2x - 8 \geq 0$$

Решим полученное неравенство методом интервалов:

$$x^2 + 2x - 8 = 0$$

По теореме Виета:

$$\begin{cases} x = -4 \\ x = 2 \end{cases}$$

Расставим точки на оси (см. рис. 1).




Рис. 1. Иллюстрация к заданию

Это квадратичный многочлен с положительным коэффициентом при x^2 , значит, знаки на интервалах будут «+» «-» «+» (см. рис. 2).

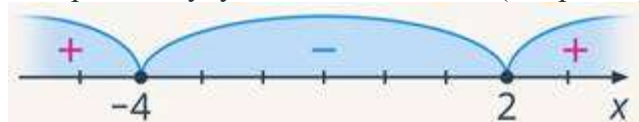


Рис. 2. Иллюстрация к заданию

Выберем нужные интервалы (см. рис. 3).



Рис. 3. Иллюстрация к заданию

На этой же оси отметим решения двух остальных неравенств (см. рис. 4):

$$x + 3 > 0, \text{ значит:}$$

$$x > -3$$

$1 - x > 0$, значит:
 $x < 1$

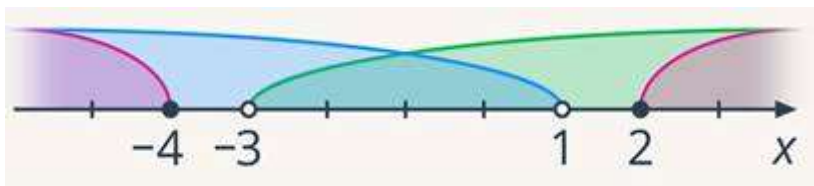


Рис. 4. Иллюстрация к заданию

Видим, что пересечений у всех трех решений нет. Значит, система не имеет решений.

Ответ: \emptyset .